






第三单元评估检测题(B卷)

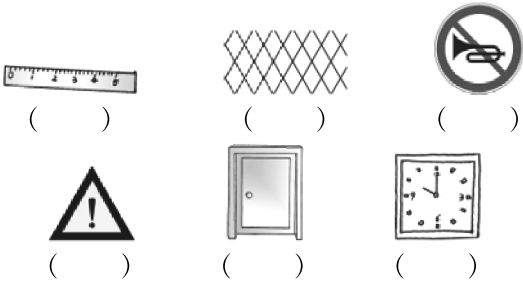
(时间:60分钟 满分:100分)

一、填一填(每空1分,共11分)

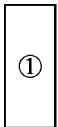
- 1.  有()条边,相对的边长度()。
- 2.  有()条边,()条边的长度()。
- 3.  有()条边。
- 4.  是由2个()形拼成的一个()形。
- 5.  是由4个()形拼成的一个()形。
- 6. 把下面的正方形沿虚线剪开得到2个图形,用这2个图形还可以拼成()。





二、在长方形下面画“”,在正方形下面画“”,在三角形下面画“△”,在圆下面画“○”,在平行四边形下面画“”(6分)





三、把下列图形分类(填序号)(15分)



①



②



③



④



⑤



⑦



⑧



⑨

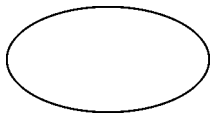

⑩

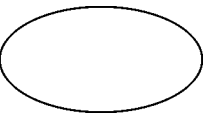

⑥

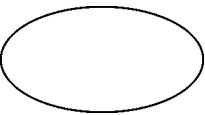

⑫

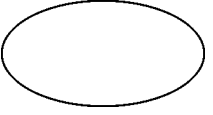

⑪

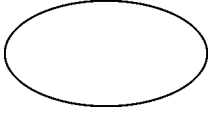

⑬


正方形

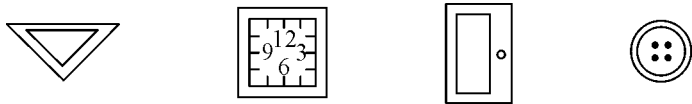

三角形


长方形


圆


平行四边形

四、连一连(8 分)



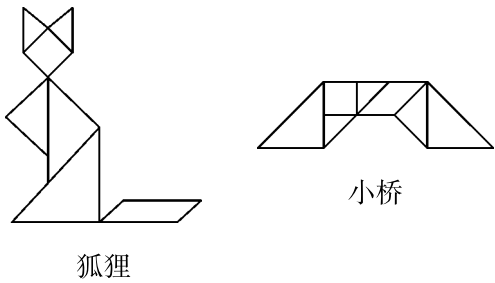
长方形 正方形 三角形 圆



五、把能用左边的物体画出的图形圈出来(8 分)

六、有趣的拼图(6 分)

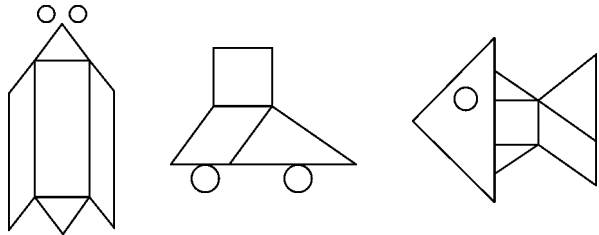
把三角形涂成红色,正方形涂成绿色,平行四边形涂成黄色。



狐狸


小桥

七、数一数(10 分)



() 个	() 个	() 个	() 个	() 个

八、在方格纸上画出一个你学过的图形(3 分)

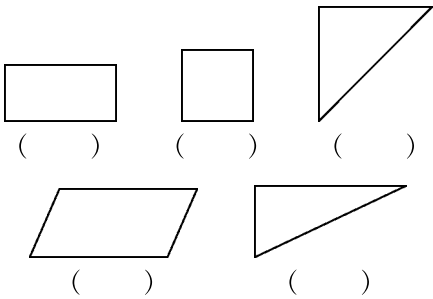


九、动手操作(2 题 5 分,3 题 3 分,其余每题 8 分,共 24 分)

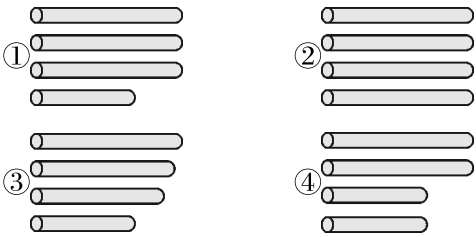
1. 想一想,拼一拼,填一填。

- (1)用 2 个大小相等的正方形可以拼成一个()。
- (2)用 4 个大小相等的正方形可以拼成一个()或()。
- (3)用 2 个完全一样的平行四边形可以拼成一个()。
- (4)用 2 个完全一样的三角形一定可以拼成一个()。

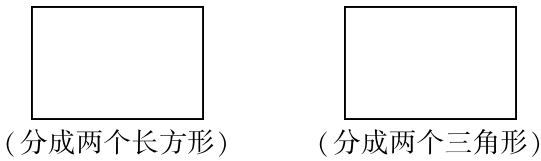
2. 把一张正方形的纸折一次,可能折出下面的哪些图形? 在可以折出的图形下面的()里画“√”。

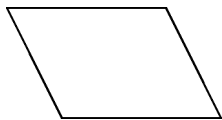


3. 第()组小棒能拼出一个平行四边形。(填序号)

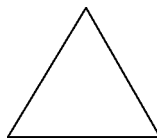


4. 按要求画线。





(分成两个平行四边形)



(分成两个三角形)

十、找规律,画一画(每题3分,共9分)

1. $\triangle \triangle \square \triangle \triangle \square \triangle \triangle \square$ _____

2.

3.

B 卷评估标准及参考答案

评估标准：

本试卷考查学生对图形概念的理解、掌握情况。全套试题基础内容占 80%，主要考查学生对平行四边形、圆、三角形、长方形、正方形有关概念的理解情况。余下的 20% 主要考查学生综合运用的能力。

参考答案：

一、1. 四 相等 2. 四 四 相等

3. 三

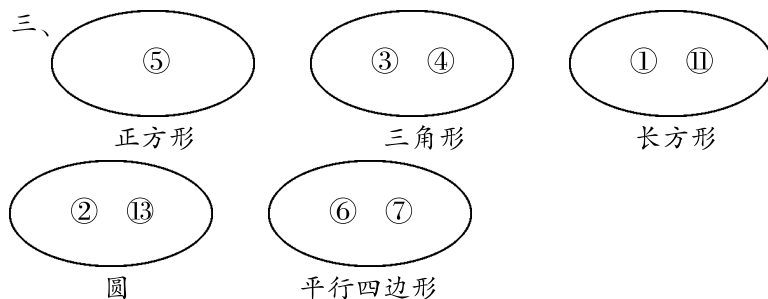
4. 长方 正方

5. 三角 正方

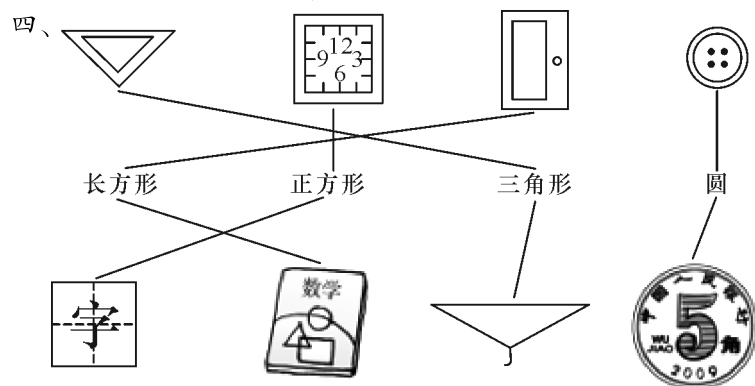
6. 三角形或平行四边形

二、(□)(□)(○)(△)(□)(□)

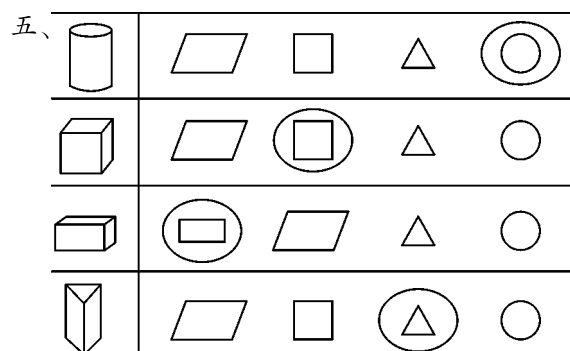
三、



四、



五、



六、涂色略。

七、2 4 5 1 7




八、略。

九、1. (1) 长方形 (2) 长方形 正方形 (3) 平行四边形 (4) 平行四边形

2. 略 3. ②④ 4. 略


十、1. $\triangle \triangle$ 



2. $\triangle \triangle$
 $\triangle \triangle$

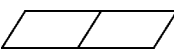
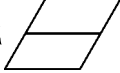
3.  \triangle
 

重点讲评：

九、动手操作。

第 1 题, (1) 长方形。拼成的图形是 。

(2) 长方形或正方形。可以拼成  或 。

(3) 平行四边形。可以拼成  或  , 都是平行四边形。

(4) 平行四边形。